

Муниципальное общеобразовательное учреждение
«Средняя общеобразовательная школа
«Лесколовский центр образования»

**Промежуточная итоговая аттестация
по технологии
5-8 классы**

На основе рабочей программы по учебнику:

6-8 классы- Технология: Обслуживающий труд. 6-8 кл./
О.А.Кожина, Е.Н.Кудакова, С.Э. Маркуцкая.

Составил:
учитель технологии
Хорошенькова Нинель Михайловна

2022-2023 учебный год

Инструкция к контрольно-измерительному материалу

Данный материал используется для проверки, теоретических и практических знаний, учащихся по курсу технология 5-8 классы.

Контроль проводится по всем разделам программы.

Работа рассчитана:

5-7 классы на теорию-40 минут, практика-40 минут;

8 класс на теорию и практику-40 мин.

Итоговая работа состоит из трёх частей:

5-7 классы: базовый уровень -15 вопросов и творческая работа;

повышенный уровень-20 вопросов и творческая работа.

8 класс: базовый уровень-10 вопросов и творческая работа;

повышенный уровень-15 вопросов и творческая работа.

Перед каждым вопросом указано, что нужно сделать:

- Выберите один правильный ответ.
- Выберите все правильные ответы.
- Установите соответствие между....
- Установите правильную последовательность...
- Напишите правильный ответ.

Учащиеся записывают ответы в бланк ответов.

Каждый правильный ответ на вопрос, оценивается в один балл, не полный ответ-0,5 балла.

Практическая работа оценивается в 10 баллов

Критерии оценивания:

100 – 90% – отметка «5»

89– 70% – отметка «4»

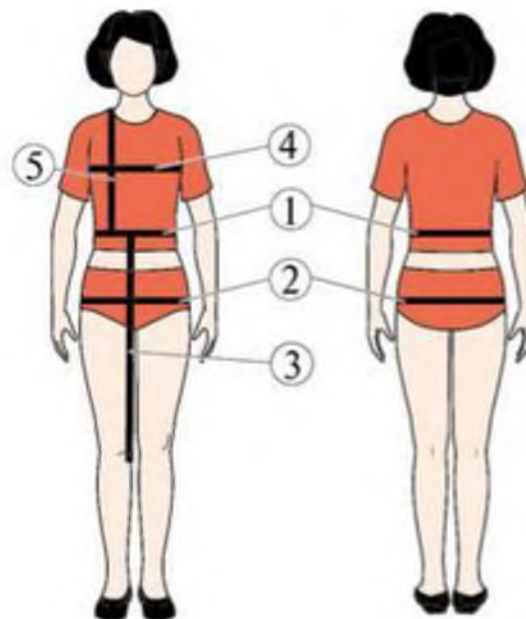
69 – 50% – отметка «3»

Менее 50% – отметка «2»

8 КЛАСС
ЧАСТЬ 1(базовый уровень)

**1. Какие мерки обозначены под цифрами
Напишите их название и условное обозначение.**

- 1 _____
- 2 _____
- 3 _____
- 4 _____
- 5 _____



2. Химические волокна, в зависимости от того из какого сырья по происхождению их вырабатывают, делят на

Выберите несколько из 4 вариантов ответа:

- 1) природные
- 2) синтетические
- 3) искусственные
- 4) натуральные

3. Перечислите преимущества химических волокон перед натуральными:

Выберите несколько из 4 вариантов ответа:

- 1) такие волокна способны сжиматься
- 2) стоимость готовой продукции гораздо дешевле
- 3) их производство не зависит от природных и климатических условий
- 4) такие волокна способны сохранять тепло

4. К какой из функций семьи можно отнести то, что семья ведёт домашнее хозяйство, которое можно рассматривать как частное производство?

Выберите один из 3 вариантов ответа:

- 1) Коммуникативная.
- 2) Экономическая.
- 3) Стабилизирующая и регулирующая.

5. Трудовой кодекс Российской Федерации разрешает заключение трудового договора с подростками ___ лет.

Выберите один из 4 вариантов ответа:

- 1) 12
- 2) 16
- 3) 18
- 4) 14

6. Что обозначает торговый знак, показанный на рисунке?

Изображение:

Выберите один из 3 вариантов ответа:

- 1) Товар изготовлен из нетоксичных материалов, и при его контакте с пищевыми продуктами не будет никакого вреда.
- 2) Упаковку товара обязательно надо утилизировать отдельно: не выбрасывать в общую урну.
- 3) Товар прошёл обязательную сертификацию и безопасен для использования.



7. В данном регионе стоимость товаров, необходимых в среднем человеку для удовлетворения основных физиологических потребностей, равна 8000 рублей в месяц. Прожиточный минимум проживающей здесь же семьи, состоящей из двух родителей и двух детей, составляет в месяц:

- 1) - 8000 р.
- 2) - 16000 р.
- 3) - 32000 р.
- 4) – 24000 р.

8. Как показать во время праздничного обеда, что вы закончили есть и тарелку с приборами можно уносить?


- 1) положить приборы на стол рядом с тарелкой
- 2) сложить их на тарелке крест-накрест
- 3) сложить на тарелку параллельно, ручками в правую сторону

9. В России высшее профессиональное образование можно получить в таких учебных заведениях как:

Выберите несколько из 7 вариантов ответа:

- | | | |
|----------------|-------------|---------------|
| 1) университет | 2) техникум | 3) ординатура |
| 4) аспирантура | 5) лицей | 6) академия |
| 7) институт | | |

10. Запиши соответствие выкройки и модели.



Ответ: _____

ЧАСТЬ 2 (повышенного уровня)

11. Взгляды на жизнь, моральные ориентиры и принципы, понятия и представления об окружающем мире, - всё это входит в

Составьте слово из букв:







РЗВНРМИОИЗЕЕО -> _____

12. Психологи и философы считают, что составляющими внутреннего мира являются

Выберите несколько из 8 вариантов ответа:

- | | |
|----------------|------------------|
| 1) чувства | 2) характер |
| 3) вдохновение | 4) мировоззрение |
| 5) эмоции | 6) способности |
| 7) настроение | 8) познание |

13. Установите соответствие между символом и его значением.

1. 	А) стирка
2. 	Б) запрещено подвергать изделие химчистке
3. 	В) запрещено отбеливание
4. 	Г) утюжить при сильном нагреве утюга
5. 	Д) сушка на горизонтальной поверхности
6. 	Е) сушка изделия в подвешенном состоянии запрещена

14. Установите соответствие.

Вид волокон	Волокна
1. Растительные	А. Шерсть
2. Искусственные	Б. Асбест
3. Животного происхождения	В. Эластановое
4. Синтетические	Г. Лен
5. Минеральные	Д. Вискоза

15. Как называется пищевой продукт, о котором говорится в отрывке из стихотворения Владимира Солоухине?

«Я убеждён, что Исаак Ньютон
То Которое открыло
Ему закон земного тяготенья,
Что он его,
В конечном счёте, - съел».

К какой группе пищевых продуктов он относится?

Ответ: _____

Чем полезен этот продукт?

Ответ: _____

ЧАСТЬ 3 (творческое задание)

Задание: Рассмотрите модели.

Запишите «Чем они похожи и чем отличаются друг от друга»

Ответ: _____

