

Муниципальное общеобразовательное учреждение
«Средняя общеобразовательная школа
«Лесколовский центр образования»

**Промежуточная итоговая аттестация
по технологии
5-8 классы**

На основе рабочей программы по учебнику:

5 класс- Технология, 5 кл./ Е.С. Глозман, О.А. Кожина, Ю.Л.,
Хотунцева, Е.Н. Кудакова

Составил:

учитель технологии

Хорошенькова Нинель Михайловна

2022-2023 учебный год

Инструкция к контрольно-измерительному материалу

Данный материал используется для проверки, теоретических и практических знаний, учащихся по курсу технология 5-8 классы.

Контроль проводится по всем разделам программы.

Работа рассчитана:

5-7 классы на теорию-40 минут, практика-40 минут;

8 класс на теорию и практику-40 мин.

Итоговая работа состоит из трёх частей:

5-7 классы: базовый уровень -15 вопросов и творческая работа;

повышенный уровень-20 вопросов и творческая работа.

8 класс: базовый уровень-10 вопросов и творческая работа;

повышенный уровень-15 вопросов и творческая работа.

Перед каждым вопросом указано, что нужно сделать:

- Выберите один правильный ответ.
- Выберите все правильные ответы.
- Установите соответствие между....
- Установите правильную последовательность...
- Напишите правильный ответ.

Учащиеся записывают ответы в бланк ответов.

Каждый правильный ответ на вопрос, оценивается в один балл, не полный ответ-0,5 балла.

Практическая работа оценивается в 10 баллов

Критерии оценивания:

100 – 90% – отметка «5»

89– 70% – отметка «4»

69 – 50% – отметка «3»

Менее 50% – отметка «2»

5 КЛАСС

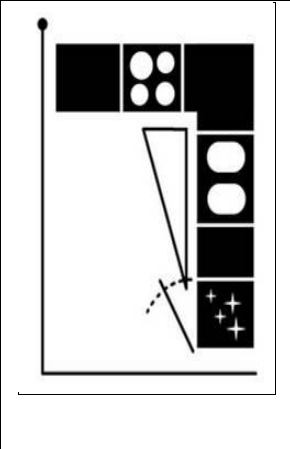
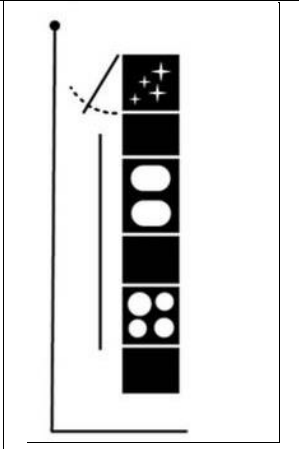
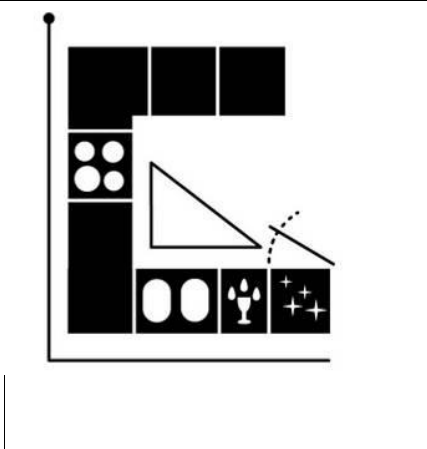
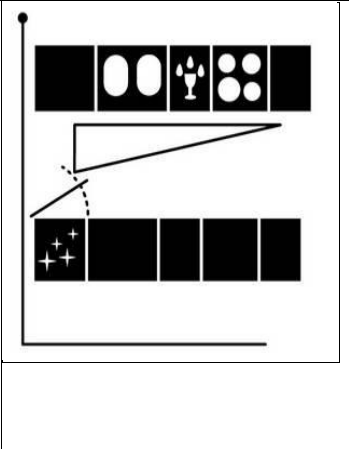
ЧАСТЬ 1(базовый уровень)

1. Зона в кухне, предназначенная только для приготовления пищи.

Выберите один правильный ответ

- А) столовая
- Б) рабочая
- В) обеденная
- Г) все ответы верны

2. Установите соответствие между названием и графическим изображением размещения оборудования на кухне:

А. параллельное (двухрядное)	Б. П-образное	В. линейное (однорядное)	Г. Угловое (Г-образное)
			
1	2	3	

3. Кулинария - это...

Выберите один правильный ответ

- А) наука о рациональном питании
- Б) искусство приготовления пищи
- В) наука о сервировке стола
- Г) продукты питания

Выберите все правильные ответы

4. Что, из перечисленного, относится к кухонным принадлежностям.

Выберите все правильные ответы

- А) разделочная доска
- Б) холодильник
- В) миксер
- Г) нож
- Д) посудомоечная машина

5. К волокнам растительного происхождения относятся:

Выберите все правильные ответы

- А) лён
- Б) шёлк
- В) хлопок

Г) шерсть

6. Процесс получения ткани из ниток путём их переплетения называется:

Выберите один правильный ответ

- А) прядением
- Б) ткачеством
- В) отделкой

7. Укажите, где изображена рабочая одежда.



8. Установите соответствие между термином влажно-тепловой обработки и содержанием работы:

Термин	Содержание работы
1. Приутюжить	А. Разложить припуски шва на две стороны и закрепить их в таком положении.
2. Заутюжить	Б. Уменьшить толщину шва или края детали.
3. Разутюжить.	В. Уложить припуски шва на одну сторону и закрепить их в таком положении

9. По своему происхождению волокна подразделяются на:

Выберите несколько из 6 вариантов ответа:

- А) животного происхождения
- Б) растительного происхождения
- В) химические
- Г) искусственные
- Д) синтетические
- Е) натуральные

10. Овощи, используемые при приготовлении винегрета:

Выберите все правильные ответы

- | | |
|--------------|-----------|
| а) картофель | д) свекла |
| б) капуста | е) лук |
| в) огурцы | ж) чеснок |
| г) морковь | з) репа |

11. Установите соответствие:

Вид посуды:

- А. Кухонная
Б. Столовая

Название посуды:

1. Кастрюля
2. Супник
3. Селедочница
4. Тарелка
5. Сковорода
6. Миска

12. Установите соответствие между видом бутерброда и его изображением:

Установить соответствие...

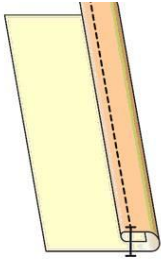
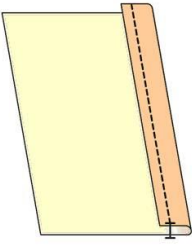
1. открытый простой	2. закрытый	3. открытый сложный	4. закусочный
<p>А</p> 			<p>Б</p> 
	<p>В</p> 	<p>Г</p> 	

13. Установите соответствие между термином и его определением:

1. Стежок	А. Последовательный ряд стежков
2. Строчка	Б. Расстояние между двумя проколами иглы
3. Шов	В. Место соединения двух и более деталей

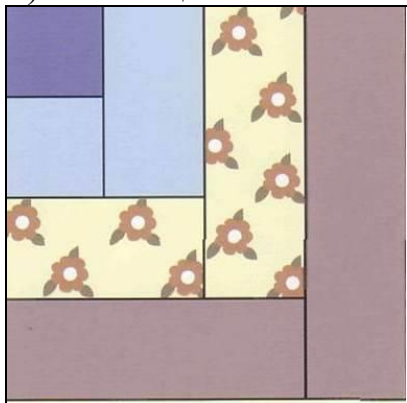
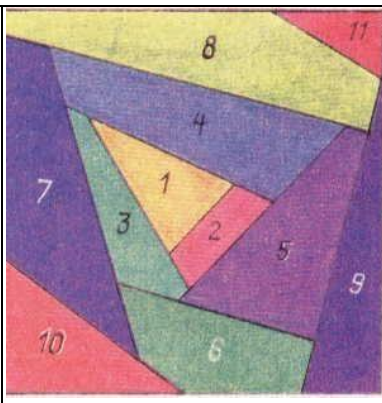

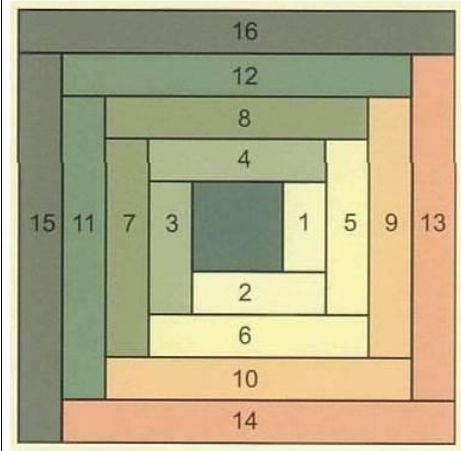
14. Представленные на рисунке швы относятся к:

Установить соответствие...

<p>А) стачным Б) обтачным В) краевым Г) накладным</p>	<p>1. </p> <p>2. </p>
--	---

15. Установите соответствие, между названием и изображением лоскутного узора:

- А) колодец
- Б) ёлочка
- В) спираль
- Г) мельница

	
1	2
	
3	4

ЧАСТЬ 2 (повышенного уровня)

16. Отгадай загадку, получи название продукта.

«Тем вкусней он будет, братцы,
Чем в нём больше круглых дыр.
Любит в масле покататься
Этот вкусный жёлтый блин...»

17. Написать название швов, представленных в вопросе №14.

18. Ткань, окрашенная в один цвет, называется:

Выберите один правильный ответ

- А) окрашенная
- Б) однотонная
- В) гладкокрашенная
- Г) отбелённая
- Д) цветная

19. Нить основы определяет:

Выберите один правильный ответ

- А) ширину ткани
- Б) кромку ткани
- В) длину ткани

20. Причинами поломки иглы могут быть:

Выберите все правильные ответы

- А) тупая игла
- Б) погнутая игла
- В) игла вставлена не до упора
- Г) номер иглы не соответствует толщине нити

ЧАСТЬ 3 (творческое задание)

1. Придумай свой геометрический орнамент рисунка



2. Выполни эскиз сарафана и используй свой орнамент в изделии.

